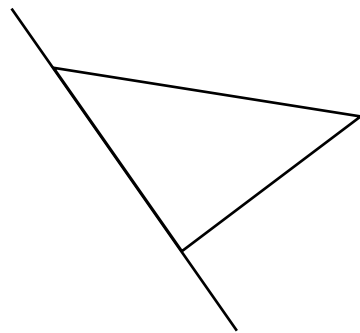
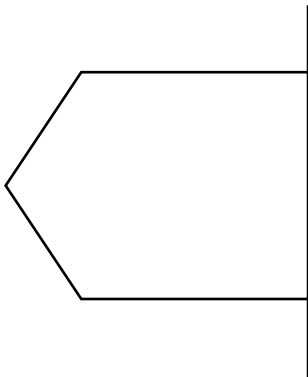
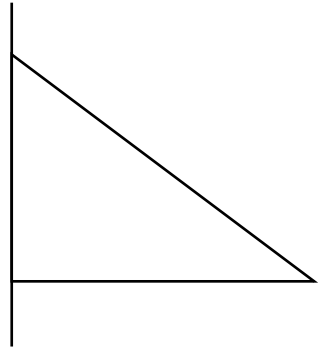




## ACTIVITÉ SUR LA SYMÉTRIE

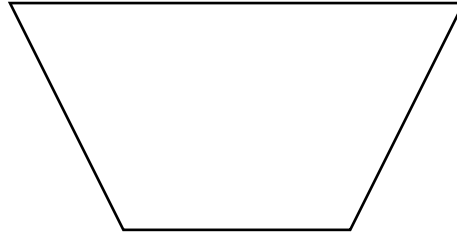
1. Complète les formes suivantes pour qu'elles soient symétriques. Utilise l'axe de réflexion pour t'aider.




2. Dessine, avec ta règle, les axes de réflexion des formes suivantes. Chaque forme possède plusieurs axes de réflexion et le nombre est indiqué.



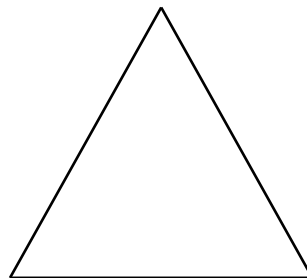
a. 1 axe dans cette forme



b. 4 axes dans ce carré



c. 3 axes dans ce triangle



d. 2 axes dans cette forme

